



# 九十三學年度技術校院四年制與專科學校二年制 統一入學測驗試題

准考證號碼：

(請考生自行填寫)

## 專業科目(二)

# 工程與管理類管理組

## 企業管理、計算機概論

### 【注意事項】

1. 請先核對考試科目與報考類別是否相符。
2. 本試題分二部份，共 100 分，請依題號順序作答。  
第一部份（第 1 至 20 題，每題 2.5 分，共 50 分）  
第二部份（第 21 至 40 題，每題 2.5 分，共 50 分）
3. 本試題均為單一選擇題，每題都有 (A)、(B)、(C)、(D) 四個選項，請選出一個最適當的答案，然後在答案卡上同一題號相對位置方格內，用 2B 鉛筆全部塗黑。答錯不倒扣。
4. 有關數值計算的題目，以最接近的答案為準。
5. 本試題紙空白處或背面，可做草稿使用。
6. 請在試題首頁准考證號碼之方格內，填上自己的准考證號碼，考完後將「答案卡」及「試題」一併繳回。





第一部份（第 1 至 20 題，每題 2.5 分，共 50 分）

1. 自然環境對企業經營的影響中，將以重視何種觀念來逐漸取代以經濟掛帥的成長價值觀念，成為企業未來永續發展的重要條件？  
(A) 人文價值觀念 (B) 競爭價值觀念 (C) 環境價值觀念 (D) 宗教價值觀念
2. 在企業管理方面，有關管理的功能包括組織、用人、領導、控制，試問尚有那一項目？  
(A) 規劃 (B) 行政 (C) 知識 (D) 創新
3. 企業在競爭激烈的市場中，要想掌握先機，須擁有能生產滿足顧客需要或降低成本的能力，而其關鍵在於要具備何種重要能力？  
(A) 媒體公關 (B) 研究發展 (C) 供應鏈 (D) 人因工程
4. 企業在財務管理方面，透過發行股票、公司債方式募集資金，作為未來投資發展之用，其主要募集來源為何？  
(A) 外匯市場 (B) 跳蚤市場 (C) 資本市場 (D) 灰色市場
5. 企業經營與政府運作關係密切，下列何者不是良好政治制度所具備的特色？  
(A) 實施政黨政治 (B) 政權穩定性  
(C) 推行自由民主社會開放 (D) 持續政爭內鬥
6. 亞當斯 (J. Stacy Adams) 提出某種理論，認為：員工透過比較自己與他人努力結果的公平性；若認為公平，會產生激勵，反之，會減少努力程度，試問此一理論為：  
(A) 增強理論 (B) 目標理論 (C) 公平理論 (D) 期望理論
7. 管理是一種動態管理，企業經營無固定的程序及方法，管理方法是否有效取決於企業當時的情境而定，此為摩斯與羅齊 (Morse & Lorsch) 提出的那一種理論？  
(A) 賽局理論 (B) 權變理論 (C) 衝突理論 (D) 交換理論
8. 集中組織中的專業人員，在一定時間、成本或品質條件下，完成某一特殊、複雜任務或突發問題，待任務完成後，即行解散回原來工作崗位，此種組織結構為：  
(A) 網路式組織 (B) 矩陣式組織 (C) 顧客式組織 (D) 專案式組織
9. 企業要有系統的管理與運用經營資訊及智慧，進而提昇到以知識應用為核心的競爭優勢，此為下列何種？  
(A) 知識管理 (B) 資訊管理 (C) 顧客管理 (D) 系統管理
10. 由於組織成員間的往來，發展出具有社會性關係的聯誼團體，如組織中的讀書會、校友會、同鄉會等，屬於：  
(A) 分權式組織 (B) 正式組織 (C) 授權式組織 (D) 非正式組織
11. 下列何者不是現代化企業經營所面臨的挑戰？  
(A) 同業競爭日趨激烈 (B) 天然資源日愈減少  
(C) 消費者對品質要求日漸降低 (D) 產品生命週期日益縮短
12. 企業面對瞬息萬變的環境，管理者處理環境問題充滿不確定性與風險性，故要能洞悉與掌握環境的脈動及趨勢，則有賴良好的何種方式？  
(A) 求神問卜 (B) 預測 (C) 算命改運 (D) 執行力
13. 運用社會學與心理學等社會科學的理論和技術，處理組織人性行為、人群關係問題的重要管理學派，為下列何者？  
(A) 管理科學學派 (B) 科學管理學派 (C) 行為科學學派 (D) 管理程序學派

14. 戴維斯 (K. Davis) 認為非正式溝通管道的型態有單向式、集群式、隨機式，尚有那一型態？  
(A) 八卦式 (B) 閒談式 (C) 罵街式 (D) 叩應式
15. 企業整體經營活動做綜合性診斷，衡量經營績效良窳的重要指標，除了安定力、活動力、成長力、生產力外，試問還有下列何者？  
(A) 產品力 (B) 形象力 (C) 競爭力 (D) 收益力
16. 當前世界因網路科技興起，電子商務盛行，與經濟自由化風潮，企業管理者須用何種角度思考經營策略，將本身優勢與環境機會相結合，以贏得市場挑戰？  
(A) 全球化角度 (B) 美國化角度 (C) 當地化角度 (D) 虛擬化角度
17. 企業經營的行銷策略中，其目的在激烈競爭的市場裡，使產品能在目標顧客心中取得獨特且具價值的地位，進而創造競爭優勢，此種策略思維是屬於下列何者？  
(A) 市場區隔 (market segmentation) (B) 產品導向 (product orientation)  
(C) 定位 (positioning) (D) 行銷組合 (marketing mix)
18. 在領導研究中，探討一個優秀領導者，應該具備那些人格特質的理論，此為下列何者？  
(A) 動機理論 (B) 目標理論 (C) 情境理論 (D) 特質理論
19. 企業進行工作分析，依據工作說明書編製而成，工作者為了達成工作績效，須具備的資格條件，如專業知識、工作技能、工作年資及經驗等，此種工作屬於下列那一種？  
(A) 工作規範 (B) 績效評估 (C) 工作評價 (D) 工作輪調
20. 管理者面臨動態多變的環境，經過用心思考、探討及研判，進而能瞭解與洞察抽象、複雜的現象，且能將其具體化表現出來的能力，此為下列何者？  
(A) 技術能力 (B) 智商能力 (C) 觀念化能力 (D) 人際關係能力

**第二部份 (第 21 至 40 題，每題 2.5 分，共 50 分)**

21. 我們將電腦分成第一代、第二代、第三代、第四代等等，請問劃分的依據為何？  
(A) 用途 (B) 使用之電子元件 (C) 功能與速度 (D) 發展的年代
22. 無線網路通訊協定 IEEE802.11b 的傳輸速度可高達：  
(A) 11 Mbps (B) 8.02 Mbps (C) 54 Mbps (D) 100 Mbps
23. 網際網路 (Internet) 使用下列那一種網路通訊協定？  
(A) IPX/SPX (B) TCP/IP (C) NetBEUI (D) X.25
24. 企業如欲防止內部資料的不合法進出，應安裝或架設下列何設施以爲因應？  
(A) 網路瀏覽器 (B) 防毒軟體 (C) 資料備份程式 (D) 防火牆
25. 在設定 E-mail 帳號時，以常用的 Outlook Express 爲例，「外送郵件伺服器」是使用下列那種通訊協定？  
(A) POP3 (B) HTTP (C) SMTP (D) MAIL
26. 小明說他昨天買了一台 1200×2400 的掃描器，更精確的說 1200×2400 應該是：  
(A) 1200 mm×2400 mm (B) 1200 dpi×2400 dpi  
(C) 1200 bps×2400 bps (D) 1200 色×2400 色
27. 大部份數位相機拍攝的照片，可利用下列那一種軟體加以編修？  
(A) WinZip (B) Excel (C) PhotoImpact (D) Access
28. 在 Outlook Express 收件匣中，若郵件前出現紅色「！」符號，表示此郵件爲：  
(A) 高優先順序 (B) 帶有病毒  
(C) 含有附加檔案 (D) 未閱讀過

29. 請問在 Windows 2000 Professional 環境下，個人電腦軟碟機上 3.5" 1.44MB 軟碟片格式化時，系統預設的檔案系統為：
- (A) FAT (B) FAT32 (C) NTFS (D) TXT
30. 要將工作視窗放大，應按下列那一個工具鈕？
- (A)  (B)  (C)  (D) 
31. 「文字藝術師」不屬於下列何種應用軟體的功能項目？
- (A) Excel (B) PowerPoint (C) Word (D) 記事本
32. 在 Excel 中，專門用來計算「總和」的函數是：
- (A) \$TOTAL() (B) ALL() (C) SUM() (D) COUNT()
33. Excel 儲存格預設的資料格式為：
- (A) G/ 通用 (B) 數值 (C) 貨幣 (D) 日期
34. 給定 10 個大小隨機排列的正整數，如果要以泡沫排序的方式，由小而大排列，在程式設計上使用巢狀 For...Next 處理，請問至少要使用幾層巢狀 For...Next？
- (A) 10 (B) 9 (C) 2 (D) 1
35. 一部電腦要上網至網際網路時，一般均需透過網際網路服務公司 (即 ISP) 的伺服主機進入 Internet 世界，下列何者不是這類網際網路服務公司？
- (A) 台灣學術網路 (TANet) (B) 奇摩雅虎或蕃薯藤  
(C) 有線電視業者 (D) HiNet 或 SeedNet
36. 若有一種影像是以 6 bits 來記錄顏色，最多可以記錄幾種顏色？
- (A) 512 (B) 256 (C) 128 (D) 64
37. 火車網路訂位系統的資料處理不屬於下列那一種方式？
- (A) 整批處理 (B) 即時處理 (C) 連線處理 (D) 分散處理
38. 下列何者正確？
- (A)  $(1011.101)_2 = (23.11)_4$  (B)  $(1101.011)_2 = (15.11)_8$   
(C)  $(3.23)_{16} = (11.1011)_2$  (D)  $(101.01)_4 = (11.1)_{16}$
39. 下列程式中，如用 For...Next 計算 1 至 100 的奇數和，則下列程式  內，應依序填入那些數字？
- ```
10 SUM = 0
20 For I =  To 100 Step 
30 SUM = SUM + I
40 Next I
50 Print SUM
```
- (A) 1, 1 (B) 2, 2 (C) 1, 2 (D) 2, 1
40. 在程式中執行符號運算時，下列何者最為優先？
- (A) 乘號 (B) 加號 (C) 指數 (D) 括號

【以下空白】