

# Te 九 十 一 學 年 度 技 術 校 院 二 年 制 統 一 入 學 測 驗 試 題

准考證號碼：

(請考生自行填寫)

## 專業科目(二)

# 護理類(一)

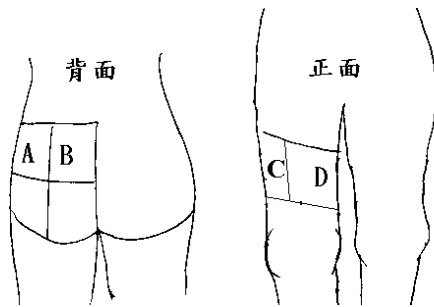
## 基本護理學

### 【注 意 事 項】

1. 請先核對考試科目與報考類別是否相符。
2. 本試題共 50 題，每題 2 分，共 100 分，請依題號順序作答。
3. 本試題均為單一選擇題，每題都有 (A)、(B)、(C)、(D) 四個選項，請選出一個最適當的答案，然後在答案卡上同一題號相對位置方格內，用 2B 鉛筆全部塗黑。答錯不倒扣。
4. 有關數值計算的題目，以最接近的答案為準。
5. 本試題紙空白處或背面，可做草稿使用。
6. 請在試題首頁准考證號碼之方格內，填上自己的准考證號碼，考完後將「答案卡」及「試題」一併繳回。

- 有關冰枕使用的說明，何者正確？
  - 裝滿整袋冰塊，以增加冰敷面積及使用時間
  - 裝 1/2 袋的冰塊及 1/2 袋的空氣，以增進舒適
  - 裝 1/2~2/3 袋冰塊後加入少許水，使冰塊銳角溶化
  - 裝 1/2~2/3 袋冰塊，袋內留少許空氣，以延緩冰塊溶化及增進舒適
- 有關眼睛用藥的措施，何者正確？
  - 同時有油劑與水劑，先點油劑
  - 點藥時請病人的頭稍後傾，眼球往下看
  - 點藥時水劑滴頭不觸及病人眼睛，滴在角膜上
  - 點完水劑後，以乾棉球或紗布輕壓於內眼角處
- 有關盤尼西林皮膚試驗的敘述，何者正確？
  - 針頭插入皮膚的角度需為 5~15 度
  - 需先反抽檢查無回血才可將藥物注入皮內
  - 藥物注射後用酒精棉片輕壓注射處，然後拔出針頭
  - 使用紅筆沿小泡周圍勾出大小，在旁註明時間與藥名
- 張先生穿前扣型上衣，左手打著點滴，更換新上衣之最適當步驟為：
  - 脫右手→脫左手→穿右手→穿左手
  - 脫右手→脫左手→穿左手→穿右手
  - 脫左手→脫右手→穿右手→穿左手
  - 脫左手→脫右手→穿左手→穿右手
- 有關女病人會陰沖洗之順序，下列最適當的為：
  - 清洗大陰唇
  - 清洗小陰唇外側
  - 清洗尿道口、陰道口、小陰唇內側
  - 擦乾大小陰唇外側
  - 擦乾小陰唇內側與中間
  - ①→②→③→④→⑤
  - ②→③→①→⑤→④
  - ①→③→②→④→⑤
  - ③→②→①→⑤→④
- 為了對肌肉溫和施壓，使達到放鬆效果，背部按摩的開始與結束，最好採取下列哪一種按摩法？
  - 按撫法 (stroking)
  - 重擦法 (friction)
  - 揉捏法 (kneading)
  - 扣擊法 (tapotement)
- 有關一般刷牙方法的敘述，何者最適當？
  - 應選擇刷毛束最多的牙刷
  - 每部位刷 2~5 次
  - 每次刷 2~3 顆牙齒
  - 刷毛與牙齦需呈 90 度角
- 程先生右手臂受傷，使用三角巾懸吊之正確姿勢為：
  - 右肘關節彎曲小於 90 度
  - 右肘關節彎曲維持 90 度
  - 手心朝下
  - 手心朝內
  - 手腕自然垂放
  - 手腕與前臂呈同一直線
  - ①③⑤
  - ①④⑥
  - ②③⑥
  - ②④⑤

9. 陳小妹 15 個月大，其醫囑為「Vit K 1Amp I.M. q.o.d.」，注射部位最好選下列圖中哪一部位？



- (A) A                      (B) B                      (C) C                      (D) D
10. 持續使用冰敷治療時間 30 分鐘以上，需間隔 30-60 分鐘，其主要在預防：
- (A) 保護性反應 (protective response)                      (B) 反彈現象 (rebound phenomenon)
- (C) 遠處效應 (consensual response)                      (D) 加成反應 (summation response)
11. 王小姐一天靜脈輸液總量 1000 c.c.，預計於白班與小夜共 16 小時期間使用微滴套管 (micro-drip set) 輸注完畢，平均每分鐘滴速應控制為多少滴 (gtt) 最適當？
- (A) 11                      (B) 31                      (C) 44                      (D) 63
12. 醫囑為 V-Genta 100 mg q6h I.V. drip，而 V-Genta 瓶上標示「2 ml/Vial, 40 mg/ml」，請問每次給藥時需給多少 c.c.？
- (A) 1.25                      (B) 2.5                      (C) 3                      (D) 5
13. 陳先生，肝硬化病史，因嚴重上吐下瀉而暫禁食，呈現輕度脫水現象，採周邊靜脈輸液治療，陳先生較適合採用下列哪些溶液？
- ① 乳酸鹽林格氏液                      ② 5%葡萄糖溶液
- ③ 5%葡萄糖混合 0.45%生理食鹽水溶液                      ④ 3%食鹽水
- (A) ①③                      (B) ①④                      (C) ②③                      (D) ②④
14. 醫院中成立靜脈注射小組專職靜脈注射，此理念是受貝維斯 (Bevis) 所提護理理念演進的哪個階段的影響？
- (A) 苦行僧主義                      (B) 浪漫主義                      (C) 實用主義                      (D) 存在主義
15. 影響護理專業發展的因素，以下敘述何者錯誤？
- (A) 實施全民健保後醫療費用縮減，使護理工作量大幅減少
- (B) 民眾的教育程度與消費意識提高，對護理指導的需求增加
- (C) 保健與後續性照顧需求增加，使護理工作領域更為擴展
- (D) 民眾對醫療保健的素質要求提高，對護理品質亦有所要求

【背面尚有試題】

16. 以下何者是護理專業性的表現？
- (A) 以直覺行事，強調自主性、獨立性  
(B) 在醫院工作是最能展現護理的獨特性  
(C) 強調絕對的正確性及對權威的服從  
(D) 實務運作上有特定的目標或執業標準
17. 有關影響健康的因素，以下敘述何者錯誤？
- (A) 全民健保政策是影響健康之環境因素  
(B) 缺水或水患為影響健康之物理環境因素  
(C) 樂透彩的發行是影響健康之環境因素  
(D) 運動習慣的養成是影響健康之生物性因素
18. 學者鄧恩 (Dunn) 1961 年對健康所下的定義：「個人高層次的健康是指個人潛能的完全發揮，這需要個人在他的環境中持續保持平衡與確定發展的方向。」下列敘述何者最符合此定義的特色？
- (A) 強調積極極致的健康狀態  
(B) 強調個人健康應由他人來客觀判定之  
(C) 強調個人以各種方式達到自己的最佳狀態  
(D) 強調健康具有身、心、社會特定的標準
19. 李先生明天預做大腸鏡檢，今開始進食清流質飲食，以下哪些食物較適合李先生？
- ① 牛奶            ② 豆漿            ③ 藕粉湯            ④ 米湯            ⑤ 運動飲料
- (A) ①②③            (B) ②③④            (C) ③④⑤            (D) ②③⑤
20. 李小姐理想體重為 52 公斤，目前實際體重為 43 公斤，請問其體重屬於哪個範圍？
- (A) -5% 以內            (B) -5% ~ -10%            (C) -10% ~ -20%            (D) -20% 以上
21. 灌食時如何決定管灌食量？
- (A) 營養部所配送之全部量            (B) 每次灌食量為 250 c.c.  
(C) 評估上一餐消化情形            (D) 依個案排泄狀況而定
22. 長時間禁食對身體產生的影響為：
- ① 異化作用減少            ② 腸黏膜萎縮            ③ 同化作用增加            ④ 骨骼肌耗損
- (A) ①②            (B) ①④            (C) ②③            (D) ②④
23. 個案：「不知為什麼，我住這兒晚上都睡不好。」  
護士：「你一定是認床，過幾天就習慣了」  
此護士所運用的不當溝通方式為：
- (A) 猜測            (B) 過早下結論            (C) 過度表示意見            (D) 不適當的保證
24. 個案：「我不能和你或別人談這些，對你們而言簡直是浪費時間。」  
護士：「你是說沒有一個人能瞭解你的感覺嗎？」  
下列最能表達此護士所運用的溝通技巧為：
- (A) 改變話題            (B) 澄清            (C) 反映            (D) 鼓勵比較

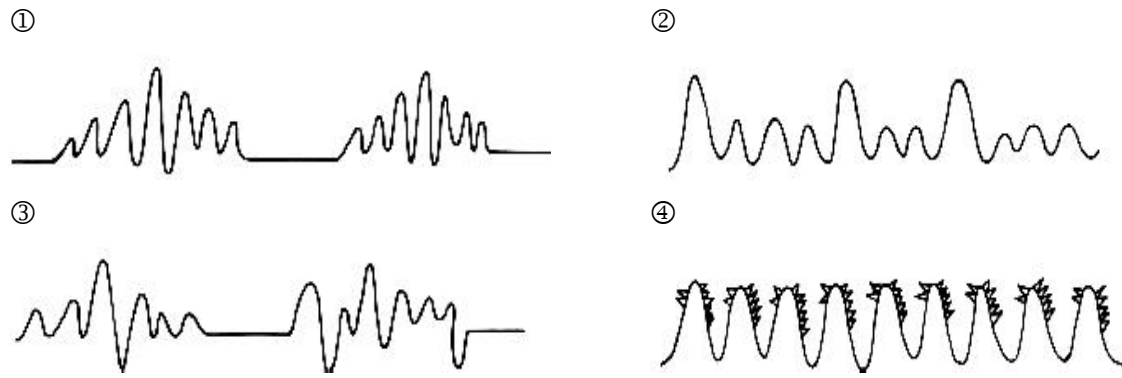
25. 屬於醫院中機械性傷害為：
- ① 老年人於病房中跌倒  
② 護理人員碰觸化學性藥物  
③ 病人使用熱水袋導致皮膚損傷  
④ 工友整理廢棄物被針扎傷  
(A) ①③ (B) ①④ (C) ②③ (D) ②④
26. 病房突然發生火災，下列哪一種措施為護理人員最適當的處理？
- ① 通知總機報告著火地點  
② 打開窗戶以促進空氣流通  
③ 給予病人氧氣以免缺氧  
④ 關掉火災地區的電源  
(A) ①③ (B) ①④ (C) ②③ (D) ②④
27. 下列何者為阻斷感染源傳播途徑的方法？
- ① 每日更換床單  
② 照顧病患前洗手  
③ 更換傷口敷料  
④ 污染物勿碰觸工作制服  
(A) ①③ (B) ①④ (C) ②③ (D) ②④
28. 下列何者屬於院內感染？
- ① 手術後第四天傷口出現紅、腫情形  
② 在急診室一天後出現發燒情形  
③ 入院時足部傷口出現膿性分泌物  
④ 中心靜脈導管注射處有膿性分泌物  
(A) ①③ (B) ①④ (C) ②③ (D) ②④
29. 接受以隱靜脈移植的冠狀動脈繞道手術病人，評估其手術後血循狀況，應選擇哪些脈搏的部位為宜？
- ① 頸動脈  
② 心尖脈  
③ 肱動脈  
④ 足背動脈  
(A) ①③ (B) ①④ (C) ②③ (D) ②④
30. 下列屬於護理人員獨立功能之護理活動為：
- (A) 依常規收集痰液標本，以便做細菌培養檢查  
(B) 當呼吸急促時，依醫囑給予 3 L/min 氧氣使用  
(C) 告訴家屬執行隔離措施之重要性，並示範隔離方法  
(D) 當體溫升至 39°C 時，給予 p. r. n. Scanol 1# 口服使用
31. 臺灣地區的健康照護體系中，緊急救護服務是屬於：
- (A) 預防保健服務 (B) 急性醫療服務 (C) 復健照顧服務 (D) 後續照顧服務
32. 某中風病患經治療後，醫師評估其狀況可以出院，但因家中缺乏人手照顧而不願意出院，護理人員與醫師及社工員討論病人出院事宜，此時護理人員扮演的角色為：
- (A) 協調者 (coordinator) (B) 決策者 (decision-maker)  
(C) 研究者 (researcher) (D) 教導者 (educator)
33. 健保預算中將急重症照護列為優先給付項目，其主要所考量的倫理原則為何？
- (A) 自主原則 (Autonomy) (B) 公平原則 (Justice)  
(C) 施益原則 (Beneficence) (D) 不傷害原則 (Non-maleficence)

34. 依我國護理人員法，護理人員執行業務所應遵守的義務與責任有：

- ① 於產婦分娩過程中，依醫囑執行相關的醫療輔助行為
- ② 為維護 AIDS 病人隱私，應保守其病情而不需立即通報
- ③ 評估家屬的學習需求，擬定計畫並提供個別性護理指導
- ④ 病人手術後第七天，護理人員評估進食狀況，即予以拆線

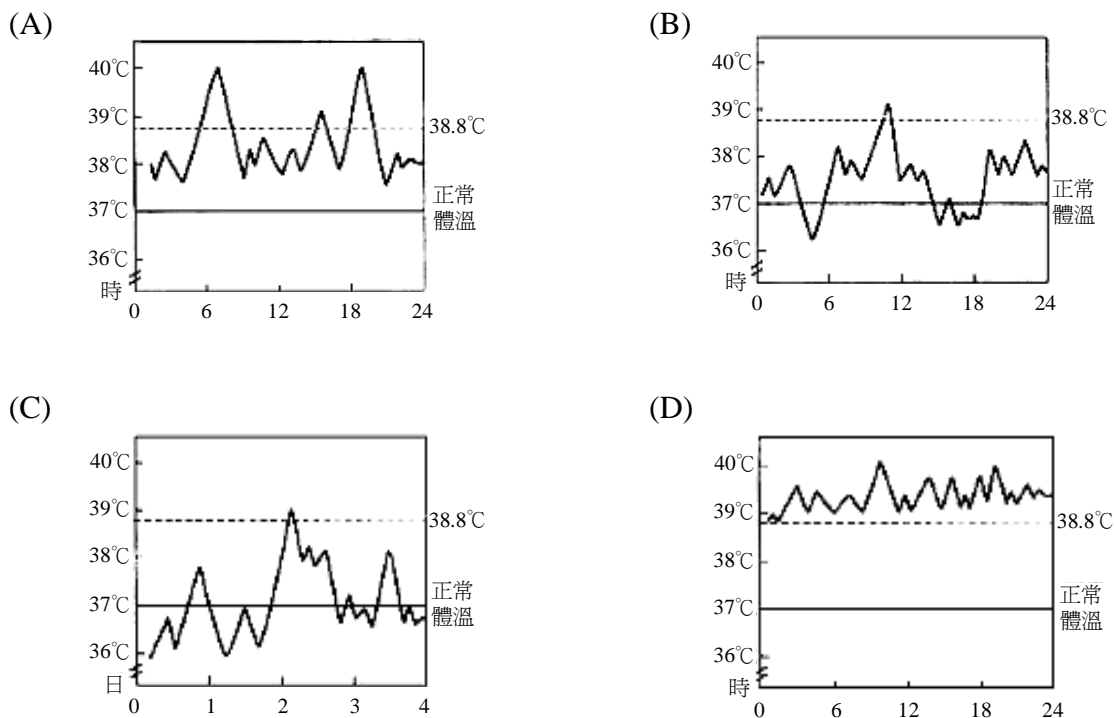
- (A) ①③                      (B) ①④                      (C) ②③                      (D) ②④

35. 腦部損傷病患，較可能會出現的呼吸型態為：(註：下圖橫軸表示時間，縱軸表示呼吸空氣量)



- (A) ①③                      (B) ①④                      (C) ②③                      (D) ②④

36. 下列何種圖形最能代表發燒種類中的恆常熱 (constant fever)？(註：下圖橫軸表示時間，縱軸表示溫度)



37. 某病患連續三日未解便，下列護理措施何者錯誤？

- (A) 多攝取糕點、餅乾
- (B) 對腹部施壓及環狀按摩
- (C) 鼓勵早餐後上廁所排便
- (D) 水份增至 2000~2500 c.c./天

38. 下列護理記錄的書寫，何者最適當？
- (A) 「態度不合作，拒絕翻身，家屬也不願意配合」  
 (B) 「可自行做床上運動，活動佳但活動中常抱怨會痛」  
 (C) 「尾薦骨處有破皮，依醫囑予藥膏使用，情況有改善」  
 (D) 「每日下床兩次，使用拐杖以四點式步態行走 10 分鐘」
39. 護士於某日早上 9:10AM 書寫護理記錄如下：「術後第三天，B.T.：37.8°C at 9AM，看起來像發燒，囑其多喝開水，續觀察病人體溫變化。R.N.王曉英。」，此記錄違反哪些原則？
- ① 事實性      ② 正確性      ③ 完整性      ④ 時效性      ⑤ 組織性
- (A) ①②③      (B) ①③⑤      (C) ②③④      (D) ②④⑤
40. 下列護理診斷及導因之敘述，何者最為正確？
- (A) 急性疼痛/髓關節置換術  
 (B) 皮膚完整性受損/腦血管意外  
 (C) 不遵從：服用類固醇藥物/缺乏衛教  
 (D) 營養狀況改變：少於身體所需/口腔潰瘍疼痛
41. 某婦人突然中風跌倒，經檢查發現左半身癱瘓、右膝腫脹瘀血，並有大便失禁情形，不斷呻吟，護士欲協助其翻身，即痛苦大叫不准他人碰觸，下列護理診斷，何者應最優先處理？
- (A) 急性疼痛      (B) 身體活動功能障礙  
 (C) 排便型態改變      (D) 身體心像改變
42. 某病患尾薦骨處發紅、起水泡，此壓瘡分期為：
- (A) 第一期      (B) 第二期      (C) 第三期      (D) 第四期
43. 某病患因長期依賴高背輪椅活動，哪些部位易發生壓瘡？
- ① 枕骨      ② 髂骨突      ③ 坐骨結節      ④ 兩腳膝蓋外側      ⑤ 肩胛骨
- (A) ①②③      (B) ①③⑤      (C) ①③④      (D) ②③⑤
44. 訓練病患股四頭肌，令其用腳抵住床尾用力，數 5 秒，再放鬆，此運動屬於？
- ① 被動運動      ② 主動運動      ③ 等長運動      ④ 等張運動
- (A) ①③      (B) ②④      (C) ②③      (D) ①④
45. 在哪個睡眠週期消化性潰瘍病人容易發生胃痛？
- (A) 快速動眼期      (B) 非快速動眼第二期  
 (C) 非快速動眼第三期      (D) 非快速動眼第四期
46. 執行「absolute bed rest」醫囑時，下列何者錯誤？
- (A) 此醫囑又稱為完全臥床休息  
 (B) 除下床如廁外均應臥床休息  
 (C) 其目的是為了緩解症狀、降低新陳代謝、減輕耗氧量  
 (D) 日常活動均應限制於床上執行，且完全由他人代理

47. 術後 6 小時病人膀胱漲，但無法解尿，誘尿時哪一種方法較不適當？
- (A) 聽流水聲 (B) 手握冰塊  
(C) 按摩恥骨聯合上方 (D) 作凱格爾氏 (Kegel's) 運動
48. 關於泌尿道感染個案之護理措施，下列何者最適當？
- (A) 鼓勵每日攝取 1000~1500 c.c.水份 (B) 大量飲用柳橙原汁酸化尿液  
(C) 鼓勵每日溫水坐浴 2 次 (D) 指導性活動前、後均應解尿
49. 執行成人大量灌腸技術，下列何者正確？
- ① 肥皂水溫應在 37.8~40.6℃ ② 適當之肛管為 14~18 Fr.  
③ 灌腸筒液面應高於肛門 45~60 公分 ④ 肛管插入 7.5~10 公分  
⑤ 灌完後請病人儘量忍住便意 5~10 分鐘
- (A) ①②③ (B) ①③⑤ (C) ②③④ (D) ③④⑤
50. 有關護士協助病患活動的描述，何者錯誤？
- (A) 移動肥胖病人時，可運用床單或使用滑板滑動之方式較省力  
(B) 協助病患床上活動時，宜調整床的高度與護士的腰部同高  
(C) 協助病患由床緣移至輪椅時，雙手環抱其腋下，應採雙腳平行與肩同寬之姿勢  
(D) 協助臥床病患坐於床緣時，護士應面向床尾，一腳在前一腳在後，一手伸入病人肩頸下，另一手伸入病人膝下，重心由前腳移至後腳

【以下空白】