


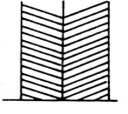
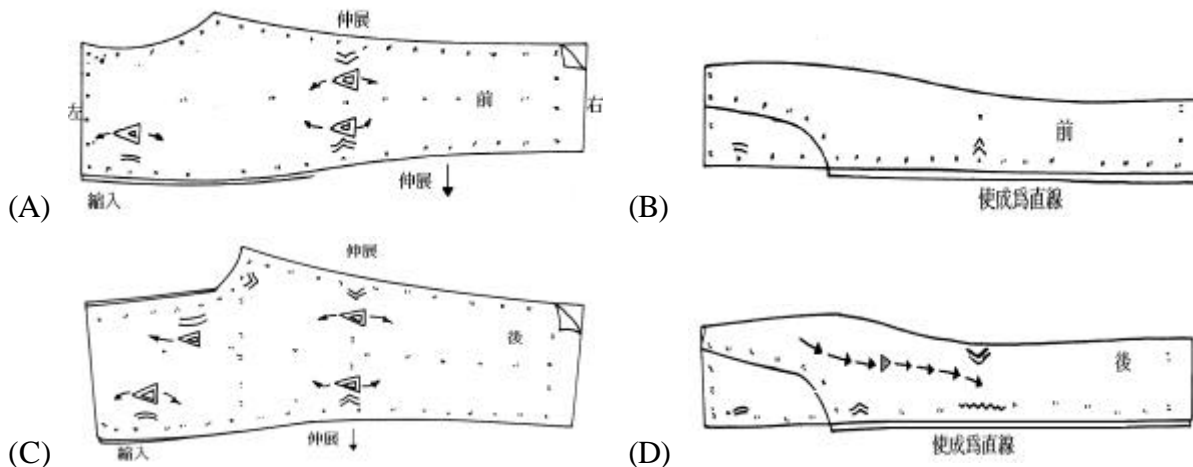


- 關於縫衣機使用，產生上線斷線的原因，下列敘述何者錯誤？
(A) 穿線過程錯誤 (B) 傳送牙過高 (C) 車針裝置不正確 (D) 細線配粗針所致
- 下列敘述何者正確？
(A) 以手縫代替車縫時使用”半回針縫” (B) ”正斜紋”是指與布邊呈90°角者
(C) ”斜疏縫”用於固定貼邊或外套的前襟 (D) 手縫針號碼愈小針愈細
- 用於布邊容易散脫且須經常洗滌的內衣等之合縫處理方式是：
(A) 剪邊縫法 (B) 毛毯邊縫法 (C) 包邊縫法 (D) 落機縫法
- 縫衣機上可以調整針目粗細功能的機件是：
(A) 調送器 (B) 調線器 (C) 導線器 (D) 針軸
- 空花布在款式設計時應以何者為設計重點？
(A) 光澤性 (B) 圖紋花樣
(C) 纖維特性 (D) 剪接線愈複雜愈好
- 襯衫排版裁布時，下列哪一項不是應注意的事項？
(A) 布紋的方向 (B) 從大片的版子開始排起
(C) 布料的特色 (D) 色彩的流行性
- 代表紙型合併的符號是：
(A)  (B)  (C)  (D) 
- 外套之裡布依補正後的紙型裁剪，一般與表布縫份相較：
(A) 比表布縫份多 0.5 cm (B) 和表布縫份一樣
(C) 比表布縫份少 0.5 cm (D) 比表布縫份多 1.5 cm
- 設計工作服時，若工作者須要經常抬舉手臂，為方便工作者應採取什麼設計？
(A) 提高袖山 (B) 降低袖山 (C) 增加袖長 (D) 挖大領口
- 玉紅小姐想製作一件八片裙，若使用單幅布時用布量如何計算？
(A) (裙長+縫份)×3 (B) (裙長+縫份)×1.5 (C) (裙長+縫份)/2 (D) (裙長+縫份)×4
- 腰細臀大體型者在進行裙子試穿時，下列敘述何者不正確？
(A) 前後腰部浮現溝紋 (B) 應增加裙擺寬度
(C) 補正時裙腰作縮縫處理 (D) 補正時需將腰圍尺寸縮小

18. 長褲製圖時，腰圍縫摺份量是由腰圍與_____的相差份量而決定。

- (A) B (B) K.L. (C) H (D) E.L.

19. 下列女裝長褲的縫製前整燙方法，何者錯誤？



20. 何種款式連身洋裝，較能強調細腰的效果？

- (A) 低腰洋裝 (B) 公主線剪接洋裝 (C) 傘形輪廓線洋裝 (D) 纖細輪廓線洋裝

21. 童裝設計時布料的選用考量，下列敘述何者正確？

- (A) 避免使用具有彈性的針織布 (B) 不透氣、吸濕性差者最適合
(C) 以天然纖維之布料最佳 (D) 需要乾洗的布料最適合

22. 童裝原型中胸圍線公式與婦女原型之胸圍線公式相差：

- (A) 多 2 cm (B) 多 1 cm (C) 多 4 cm (D) 少 1 cm

23. 以無領、窄袖，從領口沿前襟到下擺都繡邊為特色的外套與窄裙搭配，這是屬於哪一位著名設計師風格的套裝？

- (A) 迪奧 (B) 香奈兒 (C) 聖羅蘭 (D) 范倫鐵諾

24. 縫製單緞邊口袋時，下列哪一塊裁片需貼襯？

- (A) 貼邊布 (B) 口袋布 (C) 袋口布 (D) 衣身片口袋位置

25. 下列關於西裝外套的敘述，何者錯誤？

- (A) 西裝外套的衣面翻領及衣襟須以牽條固定
(B) 西裝領製圖時，後領中心傾倒份越多，則領子的外緣線越長
(C) 西裝外套的袖山高較原型高
(D) 兩片袖之表袖開口縫份應倒向內袖側

26. 基本刺繡法中，如欲繡出花朵中花蕊的部份，宜用下列何種針法？

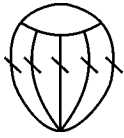
- (A) 人字繡 (B) 連結繡 (C) 飛形繡 (D) 結粒繡

27. 由四個酢漿草結組合而成的中國結為：
 (A) 團錦結 (B) 繡球結 (C) 如意結 (D) 吉祥結
28. 在布料上要產生花紋的部位，從中心抓起，依花紋大小，用手握住底部，然後用棉線從底部綁紮，此種絞染的方式稱為：
 (A) 聚摺綁法 (B) 條紋綁法 (C) 同心圓綁法 (D) 菊花綁法
29. 下列哪一種花，在緞帶花的製作過程中，可用紗布拉出花瓣上的紋路？
 (A) 牡丹花 (B) 玫瑰花 (C) 非洲菊 (D) 康乃馨
30. 製作波斯菊時，欲燙出花瓣上的細紋，應選用下列何種燙器？
 (A) 圓鏝 (B) 條鏝 (C) 瓣鏝 (D) 折邊鏝
31. 下列有關「電繡」中，梭子安裝法的敘述，何者錯誤？
 (A) 梭子以順時針方向安置於梭殼內
 (B) 梭子線由梭殼缺口內拉出，置於彈簧夾片下，並留 6~7 公分線頭
 (C) 若梭子線太鬆時，則將彈簧夾片上之螺絲往左轉，若太緊，則往右轉
 (D) 梭殼安裝時，需將針棒提昇至最高點
32. 湘繡的基本針法中，適合用來繡製鳥獸羽毛的針法為：
 (A) 錯針 (B) 洽針 (C) 鋪針 (D) 滾針
33. 下列哪一種抽紗繡的繡法，製作前必須先作柱形繡？
 (A) 蜘蛛繡 (B) 雙邊繡 (C) 七寶繡 (D) 千鳥繡
34. 關於皮雕旋轉雕刻刀的使用，下列敘述何者錯誤？
 (A) 旋轉「調節桿」可以固定桿部，以調節至適當的使用高度
 (B) 以姆指、中指及無名指托著刻刀桿部，以食指的第一關節跨在托肩上
 (C) 刻刀與皮革應呈 45° 角
 (D) 刻劃的深度約皮革厚度的 $\frac{1}{2} \sim \frac{1}{3}$
35. 製作蠟染工藝時，如欲在布料上描繪細線宜用：
 (A) 木蠟 (B) 石蠟 (C) 蜜蠟 (D) 白蠟
36. 如圖(二)的西洋編結符號名稱，下列何者正確？



- (A) 右上平結 (B) 左上平結 (C) 右上單平結 (D) 左上單平結

37. 如圖(三)的鉤針編織符號名稱，下列何者正確？



圖(三)

- (A) 短針環針 (B) 玉針 (C) 結粒針 (D) 爆米花針
38. 用少量的油和極小的火候，將材料在鍋中不斷的鏟拌，使之乾縮變軟，呈半脫水狀，再加調味料混合。此種烹調法稱為：
- (A) 燴 (B) 燜 (C) 煨 (D) 燻
39. 下列哪一種鍋具的蓄熱能力強，且散熱慢，是適合燜、煨食材的器皿？
- (A) 砂鍋 (B) 銅鍋 (C) 不鏽鋼鍋 (D) 鋁鍋
40. 有關火腿的售價，甲商店每公斤 50 元，乙商店每台斤 30 元，丙商店每磅 28 元，請問此三家商店中，火腿之每公克單位價格為：
- (A) 甲商店價格最高 (B) 乙商店價格最高
(C) 丙商店價格最高 (D) 三家商店價格相同
41. 下列何種乾貨的漲發，不是屬於水發？
- (A) 竹筴 (B) 魚翅 (C) 海參 (D) 魚肚
42. 市場生蘆筍的售價為每 100 公克 10 元，已知蘆筍的脹縮率為 93%，可食部份為 50%，今日欲煮得熟重 400 公克的蘆筍食用，則購買生蘆筍所需花費的成本是多少？
- (A) 76 元 (B) 78 元 (C) 86 元 (D) 88 元
43. 製作「醉雞」時，宜選用何種酒來浸漬？
- (A) 紹興酒 (B) 米酒 (C) 高粱酒 (D) 啤酒
44. 有關「拔絲」菜肴的製作，下列敘述何者錯誤？
- (A) 熬糖漿時需用小火 (B) 糖漿不可熬煮至還原結晶狀態
(C) 拔絲的材料宜選擇水分多的 (D) 水果類可先裹衣再炸，以免水分流失
45. 烹製米飯時，下列四種米何者需水量最少？
- (A) 糯米 (B) 胚芽米 (C) 在來米 (D) 蓬萊米
46. 「京都排骨」是中國哪一個地方的名菜？
- (A) 北平 (B) 廣東 (C) 湖南 (D) 四川
47. 「涼拌海蜇皮」一菜在盛盤時，應用何種裝盤法較為適當？
- (A) 排 (B) 擺 (C) 疊 (D) 堆
48. 下列哪一道菜製作時，宜選用五花肉才会有較佳的口感？
- (A) 梅乾菜扣肉 (B) 高麗肉條 (C) 咕咾肉 (D) 京醬肉絲

49. 下列何者不屬於燙麵麵食？
- (A) 菜盒子 (B) 春捲皮 (C) 蒸餃 (D) 牛肉餡餅
50. 製作麵包的麵糰時，當表面已漸趨光滑、有光澤，用手觸摸具彈性及柔軟度，且有伸展性，但仍容易斷裂的狀態，是屬於攪拌的何種階段？
- (A) 拾起階段 (B) 麵筋擴展階段 (C) 捲起階段 (D) 完成階段

《 以下空白 》

